

Lunes 20 abril



El verbo

Las palabras que sirven para expresar lo que hacemos son los **verbos**.

Cada verbo tiene muchas formas (*pinto, pintan...*). El conjunto de todas las formas de un verbo es su **conjugación**.

LibroMedia
Actividad interactiva:
el verbo.

1 ¿Qué hace Álvaro en casa? Completa con verbos. **R. M.:**

LAS TAREAS DE ÁLVARO

<u>Ordenar</u> su cuarto.	<u>Poner</u> la mesa.
<u>Regar</u> las plantas.	<u>Sacar</u> la basura.
<u>Hacer</u> la cama.	<u>Recoger</u> los juguetes.

SUGERENCIAS
Pídeles que piensen en las tareas que hacen ellos en casa y que las comparen con las de Álvaro.

2 Escribe estas formas verbales donde corresponda:

bailé	barremos	Verbo bailar	Verbo barrer
barriste	bailarán	<u>bailé</u>	<u>barremos</u>
barrerá	bailas	<u>bailarán</u>	<u>barriste</u>
		<u>bailas</u>	<u>barrerá</u>

3 ¿Qué haces normalmente los fines de semana? Escribe una oración. **R. L.**

Los fines de semana yo

Miércoles 22 abril 2020.

1 Subraya el verbo en el bocadillo de cada personaje.



► Ahora, copia las formas verbales que has subrayado.

lanzo, hacemos, sube

2 Copia las formas verbales destacadas donde corresponda.

Una tarde de domingo

Ayer mi madre **durmió** una larga siesta. Mientras tanto, mis hermanos **recogieron** la cocina, yo **paseé** al perro y mi padre **recogió** la ropa tendida. Luego, **paseamos** juntos por el campo. Y por la noche, ¡**dormimos** de maravilla!



Verbo **pasear** ► paseé, paseamos

Verbo **recoger** ► recogieron, recogió

Verbo **dormir** ► durmió, dormimos

3 ¿Qué puedes hacer en estos lugares? Escribe verbos. R. M.



► jugar, columpiarme, correr

bañarme, nadar, bucear ◀



1 Escribe donde corresponda.

satélite

estrella

planeta



estrella

planeta

satélite

2 Observa y marca la afirmación correcta. Después, cópiala.



Los planetas giran alrededor de una estrella.

Las estrellas giran alrededor de un planeta.

Los planetas giran alrededor de una estrella.

MONEDAS

Céntimos Euros




1 euro son 100 céntimos.
 $1 \text{ €} = 100 \text{ céntimos}$

BILLETES



ERENCIAS
ente las
terísticas
s
edas y
illetes
año,
...).

¿Cuánto dinero hay? Calcula y escribe.



2 euros y 73 céntimos

Media
nto
o hay?



16 € y 15 céntimos

ERENCIAS
le que un
podemos
irlo de
nas formas
entes a
r de las
edas de
or valor.



$100 \text{ céntimos} = 1 \text{ euro}$




$1 \text{ € y } 100 \text{ céntimos} = 2 \text{ euros}$



- 1 € y 47 céntimos ➤ $100 + 47 = 147$ céntimos
- 1 € y 60 céntimos ➤ $100 + 60 = 160$ céntimos
- 2 € y 39 céntimos ➤ $200 + 39 = 239$ céntimos
- 3 € y 5 céntimos ➤ $300 + 5 = 305$ céntimos

SUGERENCIAS
Trabaje el paso de unas expresiones de dinero a otras, especialmente los casos en los que el número de céntimos tiene una sola cifra.

3 ¿Cómo se escriben los precios? Observa el ejemplo y relaciona.



- | | | |
|--------------------|---|---------|
| 5 € y 64 céntimos | → | 2,30 € |
| 36 € y 15 céntimos | → | 5,64 € |
| 2 € y 30 céntimos | → | 7,09 € |
| 18 € y 70 céntimos | → | 18,70 € |
| 7 € y 9 céntimos | → | 24,08 € |
| 24 € y 8 céntimos | → | 36,15 € |

LibroMedia
Monedas y billetes.

4 ¿Qué dinero hay en cada monedero? Rodea.



SUGERENCIAS
Muestre cómo una misma cantidad de dinero podemos reunirlos de muchas formas posibles.



- **CON LAS MANOS.** Utiliza las monedas y billetes de tu material para representar el dinero de cada monedero con el menor número de billetes y monedas posible.



- ¿Puedes conseguir esas cantidades con otros billetes y monedas? Busca varias formas. **R. L.**

Problemas con dinero

Olga compra un cuaderno y un rotulador.
¿Cuánto tiene que pagar?

Expresa todos los precios en céntimos
y, después, suma.



▶ 1,45 € = 1 € y 45 céntimos = 145 céntimos

▶ 0,80 € = 80 céntimos

$$\begin{array}{r} 145 \\ + 80 \\ \hline 225 \end{array}$$

225 céntimos = 2 € y 25 céntimos


Tiene que pagar 2 euros y 25 céntimos.

1 Expresa en céntimos y calcula.

Jorge compra una pelota que cuesta 3,40 €.

Paga con un billete de 5 €.

¿Cuánto le devuelven?



▶ 3,40 € = 3 € y 40 céntimos = 340 céntimos

5 € = 500 céntimos

$$\begin{array}{r} 500 \\ - 340 \\ \hline 160 \end{array}$$

160 céntimos

1 € y 60 céntimos

SOLUCIÓN

Le devuelven 1 € y 60 céntimos.

IAS
s alumnos
solver
de
cesario
euros
alente en
después
realizar
deberán
es posible,
de
sultante en
timos.

CIÓN

2 Completa y resuelve.

Iván quiere comprar unas gafas de bucear. Tiene 6,85 €. ¿Cuánto dinero le falta?



DATOS $7,35$ € = 735 céntimos

$6,85$ € = 685 céntimos

OPERACIÓN

735
- 685
—
050

SOLUCIÓN Le faltan 50 céntimos.

3 ¿Cuánto dinero es? Calcula.

3 monedas de 10 céntimos

$$3 \times 10 = 30$$

Son 30 céntimos.

4 billetes de 5 euros

$$4 \times 5 = 20$$

Son 20 euros.

6 monedas de 20 céntimos

20
× 6
—
120

$$120 \text{ céntimos} = 1 \text{ € y } 20 \text{ céntimos}$$

Es 1 euro y 20 céntimos.



R. L.



CON LAS MANOS. Utiliza los billetes y monedas para representar con un compañero una compra.

- ▶ Pagas entregando la cantidad exacta.
- ▶ Te devuelven dinero.

SU
El t
de
de
mo
alu
ap
cor