



CONTROL MATEMÁTICAS TEMA 8

Nombre y Apellidos.....Fecha.....

1) Completa la tabla:

| Dibujo | Nombre del polígono | Número de lados | Número De vértices | Número De ángulos |
|---|---------------------|-----------------|--------------------|-------------------|
|  | | | | |
| | | 6 | | |
| | | | 4 | |
| | | | | 3 |

2) Une con flechas:

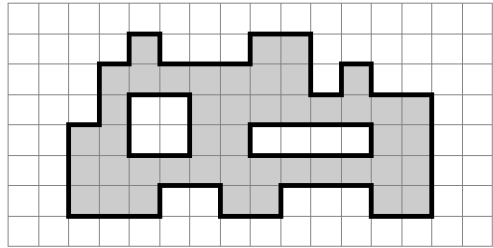
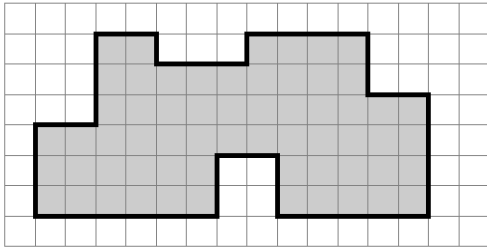


Equilátero

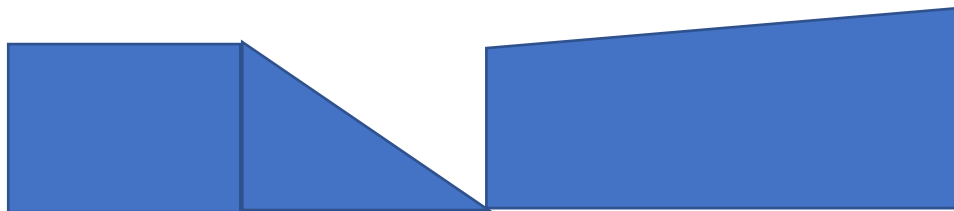
Isósceles

Escaleno

3) Calcula el área de cada figura:



4) Mide y calcula el perímetro.



5) Traza un círculo de 3 cm de diámetro y dibuja dos diámetros y dos radios

6) Juan Carlos tienen 1.890 cromos de Harry Potter y Natalia 790. Los quieren repartir todos en partes iguales entre 5 amigos. ¿Cuántos cromos darán a cada amigo?

7) Beatriz recogió nueces en su pueblo. Cogió un saco de 18 kilos y 25 sacos de 36 kilos cada uno. ¿cuántos kilos cogió en total?

Si los quiere repartir en bolsas de 6 kilos. ¿cuántas bolsas necesitará?

8) Divide y haz la prueba:

$$84916 : 7$$