

SOLUCIONES EJERCICIOS MATEMÁTICAS

Soluciones ejer. 1, 2 y 3 pág. 155

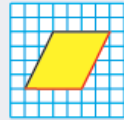
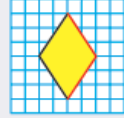
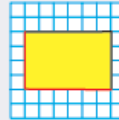
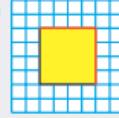
Soluciones

1 Rombo Romboide Rectángulo Cuadrado Cuadrado Rombo

2 R. M.

- Los cuadrados y los rectángulos tienen los lados paralelos dos a dos y los cuatro ángulos rectos. El cuadrado tiene los lados iguales y el rectángulo no.

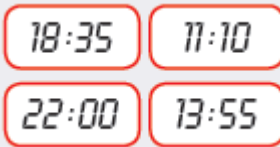
3



Soluciones ejer. 2 y 4 pág. 163

2 0,1 0,4 0,12 0,08 0,054

4



¡Si habéis corregido... continuamos!

ACTIVIDADES DÍA 23 DE MATEMÁTICAS

(Las actividades que se detallan a continuación, las tendrás que enviar al correo de Gmail una vez corregidas. Debéis esperar a las correcciones en el siguiente envío)

Copiamos el recuadro azul de la pág. 156 prestando mucha atención.

Memorizamos: **“EL PERÍMETRO DE UN POLÍGONO ES LA SUMA DE LAS LONGITUDES DE SUS LADOS”**

- ¡Es muy fácil! ¡Ahora a practicar!
- Ejercicios 1, 2 y 3 pág. 156
- Es importante copiar los dibujos de los polígonos de cada ejercicio y hacer el esquema en los problemas.
- Cálculo para recordar.

2 Calcula estas multiplicaciones.



Fíjate, todos ellos tienen algún cero.

832×407

2.571×305

5.384×410

Y... ¡TRABAJO TERMINADO!