

## CIENCIAS SOCIALES 5º EDUCACIÓN PRIMARIA

### CONTROL TEMA 4: LA POBLACIÓN ESPAÑOLA

Lee atentamente las siguientes cuestiones y elige la respuesta correcta.

1. La densidad de población:
  - a) Se calcula dividiendo la superficie en  $\text{km}^2$  de un lugar determinado entre el número de habitantes de ese lugar.
  - b) Se calcula dividiendo el número de habitantes de un lugar determinado entre la superficie en  $\text{km}^2$  de ese lugar.
  - c) Las opciones a y b son correctas.
  - d) Se calcula multiplicando el número de habitantes de un lugar determinado entre la superficie en  $\text{km}^2$  de ese lugar.
  
2. Al conjunto de personas que viven en un territorio determinado se le conoce como:
  - a) Censo.
  - b) Padrón.
  - c) Las opciones a y b son correctas.
  - d) Ninguna de las opciones es correcta.
  
3. Completa la siguiente oración: “El \_\_\_\_\_ es un registro de los habitantes de un determinado municipio. Se actualiza continuamente, porque registra \_\_\_\_\_ y \_\_\_\_\_.”
  - a) Censo / los nacimientos / las muertes.
  - b) Padrón / los nacimientos / las muertes.
  - c) Padrón / la natalidad / la mortalidad.
  - d) Las opciones b y c son correctas.
  
4. Al registro de la población que se recoge cada diez años se le conoce como:
  - a) Saldo migratorio.
  - b) Padrón.
  - c) Censo.
  - d) Ninguna de las anteriores es correcta.
  
5. Una densidad de población alta es propia de:
  - a) Las ciudades.
  - b) Los pueblos.
  - c) Las áreas rurales.
  - d) Cualquier lugar.

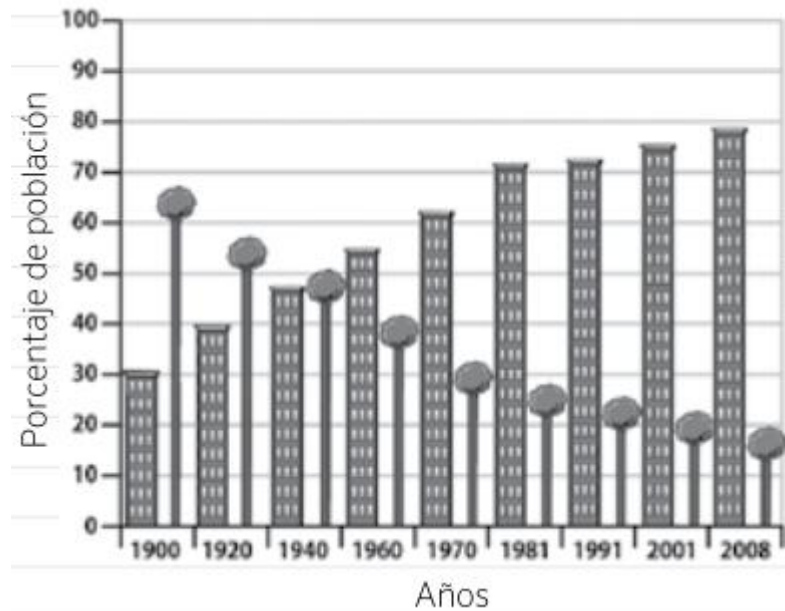
6. La Comunidad de Madrid:

- a) Es una zona con baja densidad de población.
- b) Es una comunidad poco poblada.
- c) Es una comunidad con alta densidad de población.
- d) Es una comunidad con baja densidad de población porque las zonas con alta densidad de población se localizan en la costa.

7. Cuando en un territorio viven pocos habitantes:

- a) La densidad de población es baja.
- b) La densidad de población es alta.
- c) No se puede calcular la densidad de población.
- d) Hablamos de un territorio muy poblado.

Observa el gráfico y responde a las cuestiones 8, 9 y 10.



8. ¿Cuándo había más habitantes en el campo, en 1900 o en 1991?

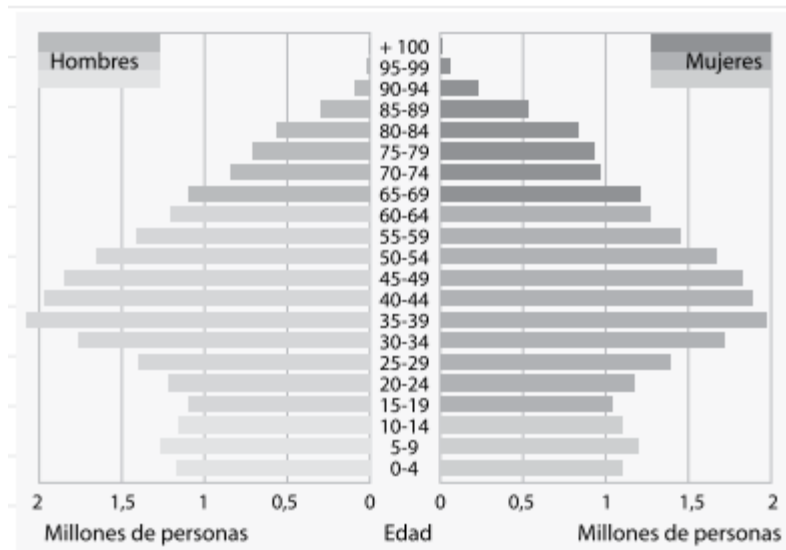
- a) En el año 1900 había más habitantes en el campo.
- b) En el año 1900 había menos habitantes en el campo.
- c) En el año 1991 había menos habitantes en el campo.
- d) Las opciones a y c son correctas.

9. ¿Qué indica el eje vertical de la gráfica?

- a) Los años transcurridos.
- b) El porcentaje de la población.
- c) El número de árboles que había en el campo.
- d) La gráfica no contiene eje vertical.

10. ¿Qué porcentaje de la población vivía en el campo en el año 2001?
- 10%.
  - 20%.
  - 30%.
  - 50%.
11. El porcentaje de población que vivía en los núcleos urbanos en el año 1981 de un determinado lugar era de un 70%. Suponiendo que la población de ese lugar era de 30.500 habitantes, ¿cuántos habitantes vivían en núcleos urbanos de ese lugar en el año 1981?
- 21.350 habitantes.
  - 20.350 habitantes.
  - 19.350 habitantes.
  - 22.350 habitantes.
12. A la diferencia entre las tasas de natalidad y de mortalidad de un determinado lugar se le conoce como:
- Crecimiento real.
  - Crecimiento natural.
  - Saldo migratorio.
  - Densidad de población.
13. Las personas que llegan a un país en el que no han nacido o vivido se les llama:
- Emigrantes.
  - Inmigrantes.
  - Habitantes.
  - Ninguna opción es correcta.
14. El \_\_\_\_\_ es la diferencia entre el número de inmigrantes que llegan a un territorio y los emigrantes que lo abandonan.
- Crecimiento real.
  - Crecimiento natural.
  - Saldo migratorio.
  - Densidad de población.
15. El crecimiento real de una población se calcula:
- Crecimiento natural + saldo migratorio.
  - Crecimiento natural – saldo migratorio.
  - Crecimiento natural + natalidad.

Observa el siguiente gráfico y responde a las cuestiones 16, y 17.



16. La pirámide de población muestra una población:
- Donde no hay muchos nacimientos.
  - Donde hay muchos nacimientos.
  - Donde hay mucha población anciana.
  - De un país muy poco desarrollado.
17. ¿Cuáles son los grupos de edades mayoritarios?
- 0-4.
  - 75-79.
  - 35-39.
  - 15-19.
18. ¿Qué tres factores tiene en cuenta el crecimiento real de la población?
- Población urbana, rural y migraciones.
  - Natalidad, crecimiento y mortalidad.
  - Natalidad, mortalidad y migraciones.
19. La mayoría de la población activa en España trabaja en:
- El sector primario.
  - El sector secundario.
  - El sector terciario.
20. El sector servicios se desarrolla especialmente en zonas:
- Urbanas.
  - Rurales.
  - Del interior de la Península Ibérica.

21. En una pirámide de población, la parte izquierda representa:
- a) La población femenina.
  - b) La población masculina.
  - c) La población adulta.
  - d) La población anciana.

Lee el siguiente texto y responde a las cuestiones 22, 23 y 24.

La localidad de Crivillén, en Teruel, tiene tres nuevos vecinos de nacionalidad ecuatoriana. Llegaron para trabajar en un proyecto que persigue tres objetivos: mejorar las condiciones sociales y laborales de los empleados, encontrar mano de obra en el campo, y frenar la despoblación de la zona.



La alcaldesa de Crivillén, María José Lecina, buscaba un empleado para la tienda-bar municipal y puso a disposición de los inmigrantes la antigua casa del maestro a cambio de un alquiler bajo. La alcaldesa destaca que, gracias a ellos, seguirá abierta la escuela rural, en la que estudiarán el próximo año cuatro niños. “Los inmigrantes en estos pueblos no son vistos como una amenaza, sino como una salvación”.

Más de 100 familias esperan ser trasladadas a otros pueblos de Aragón, Valencia o Castilla-La Mancha.

22. Elige la opción correcta:
- a) La población de Crivillén es una población urbana.
  - b) La población de Crivillén es una población rural.
  - c) La densidad de población en la localidad de Crivillén es muy alta.
  - d) La población de Crivillén es envejecida debido a la elevada tasa de natalidad.
23. La localidad de Crivillén se localiza en:
- a) Aragón.
  - b) Valencia.
  - c) Castilla – La Mancha.
  - d) Madrid.
24. ¿Por qué es importante la inmigración para la localidad de Crivillén y para los inmigrantes?
- a) Porque así se pueden mantener infraestructuras como la escuela.
  - b) Porque se produce un aumento de la población.
  - c) Las opciones a y b son correctas.

25. Señala la opción correcta:

- a) Desde la Edad Antigua hasta comienzos de la Edad Contemporánea, la población española experimentó un crecimiento rápido.
- b) Desde la Edad Antigua hasta comienzos de la Edad Moderna, la natalidad era muy elevada, pero la mortalidad, no.
- c) Desde la Edad Antigua hasta comienzos de la Edad Contemporánea, la población española experimentó un crecimiento lento y continuo.
- d) Desde la Edad Antigua hasta comienzos de la Edad Contemporánea, las zonas de interior estaban más pobladas que las de costa.

26. ¿Qué es el éxodo rural?

- a) Es la migración del campo a la ciudad.
- b) Es la migración de la ciudad al campo.
- c) Es la migración de las zonas de interior a las zonas de costa.
- d) Es la migración de las zonas de costa a las zonas de interior.

27. Desde mediados del siglo XX se produjo en España una situación caracterizada por una alta tasa de nacimientos y una drástica reducción de la tasa de mortalidad. Esta situación se le conoce como:

- a) Éxodo rural.
- b) Crecimiento natural.
- c) Explosión demográfica.
- d) Saldo migratorio.

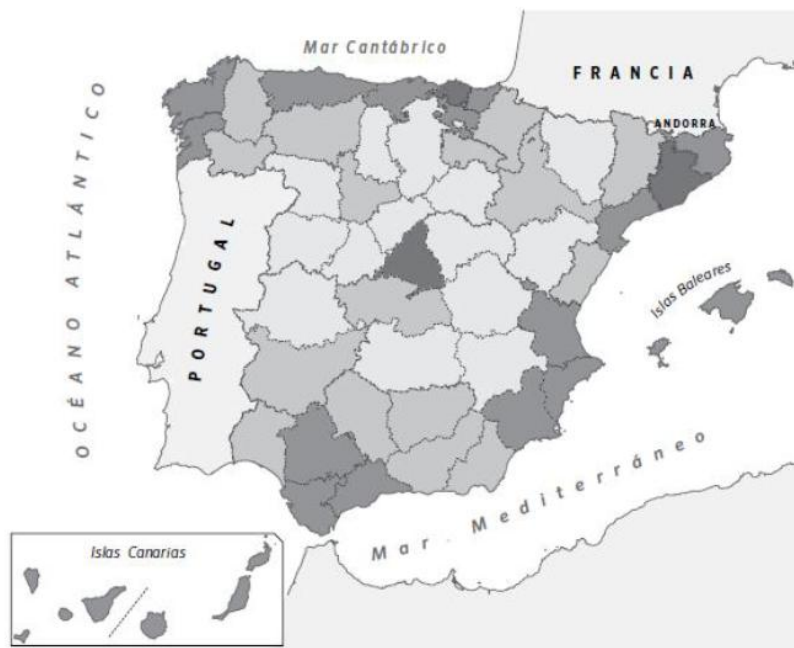
28. ¿Por qué hay una menor concentración de población en las zonas de interior de la Península Ibérica? Utiliza la lógica:

- a) Porque el clima en las zonas de interior es más suave que en las zonas de costa.
- b) Porque las zonas de costa de España tienen, en general, una mayor actividad económica, con puertos pesqueros y comerciales, y un turismo de sol y playa muy importante.
- c) Porque en todas las zonas de interior la actividad industrial es muy grande.
- d) Porque en las zonas de costa el clima es mucho peor que en las zonas de interior.

29. Una de las principales causas que ha provocado una reducción en la tasa de mortalidad desde el año 1975 aproximadamente ha sido:
- a) El consumo de alimentos precocinados.
  - b) Los avances en medicina y hábitos de salud.
  - c) La inmigración de personas jóvenes.
  - d) La incorporación de la mujer al mercado laboral.
30. Las lenguas que se hablan en Galicia son:
- a) El castellano y el catalán.
  - b) El castellano.
  - c) El castellano y el euskera.
  - d) El castellano y el gallego.
31. El castellano y el mallorquín son las lenguas que se hablan en:
- a) Aragón.
  - b) Cataluña.
  - c) Galicia.
  - d) Ninguna de las anteriores es correcta.
32. ¿Qué es la población activa?
- a) La población activa es el conjunto de personas que no están en edad ni en condiciones de trabajar.
  - b) La población activa está formada por los menores de 16 años y los mayores de 67.
  - c) Las opciones a y b son correctas.
  - d) La población activa son las personas que tienen trabajo y aquellos que están en búsqueda de empleo.
33. La obtención de madera para fabricar papel es un ejemplo de actividad perteneciente al:
- a) Sector primario.
  - b) Sector secundario.
  - c) Sector terciario.
34. La actividad industria pertenece al:
- a) Sector primario.
  - b) Sector secundario.
  - c) Sector terciario.

35. La actividad de vender ropa en un centro comercial pertenece al:
- a) Sector primario.
  - b) Sector secundario.
  - c) Sector terciario.
36. ¿Cuál de las siguientes actividades pertenece al sector primario?
- a) Realizar prendas de ropa.
  - b) Obtener algodón.
  - c) Transportar esas prendas de un lugar a otro.

Observa el mapa y responde a las cuestiones 37 y 38.



37. Algunas de las provincias con una alta densidad de población serían:
- a) Madrid, Ciudad Real y Cuenca.
  - b) Madrid, Barcelona y Soria.
  - c) Madrid, Albacete y Barcelona.
  - d) Madrid, Barcelona y Murcia.
38. Algunas de las provincias con baja densidad de población serían:
- a) Cádiz, Madrid y Teruel.
  - b) Ciudad Real, Murcia y Cuenca.
  - c) Teruel, Soria y Huesca.
  - d) Madrid, Barcelona y Valencia.



39. La lengua oficial en todo el territorio español es el:

- a) Euskera.
- b) Gallego.
- c) Catalán.
- d) Castellano.

40. ¿De qué informa la siguiente tabla? Señala la respuesta correcta.

País de origen	Número total (2009)
Marruecos	767.784
Rumanía	751.688
Ecuador	440.304
Colombia	287.205
Reino Unido	222.039
China	151.547

- a) Del número de inmigrantes que residían en España en el año 2009, clasificados por su país de origen.
- b) Del número de habitantes que cambiaron su lugar de residencia en España.
- c) Las opciones a y b son correctas.
- d) Ninguna de las opciones anteriores es correcta.

**LAS RESPUESTAS SE INDICARÁN EN LA HORA DE RESPUESTAS.**

**LA HOJA DE RESPUESTAS ES EL DOCUMENTO QUE HAY QUE ENVIAR PARA SU CORRECCIÓN.**