

SEGUIMIENTO DE TRABAJO DE CIENCIAS SOCIALES 5º

PRIMARIA. Tema 4. La población española.

Realizar las siguientes actividades. Se pueden realizar en el cuaderno, imprimir el archivo y realizarlas en la ficha impresa, o realizarlas directamente a ordenador en este mismo archivo.

1. Define qué es la densidad de población y escribe la fórmula con la que se calcula.

2. El siguiente mapa nos muestra la densidad de población de las provincias españolas. Obsérvalo y contesta a las preguntas.



-Cita 3 provincias con una alta densidad de población y otras tres con una baja densidad de población.

-¿Dónde es más alta la densidad, en el interior o en la costa? ¿Por qué?

3. Observa las dos fotografías y contesta a las preguntas que se plantean a continuación.



-¿Cuál de las dos localidades tiene una densidad de población mayor?

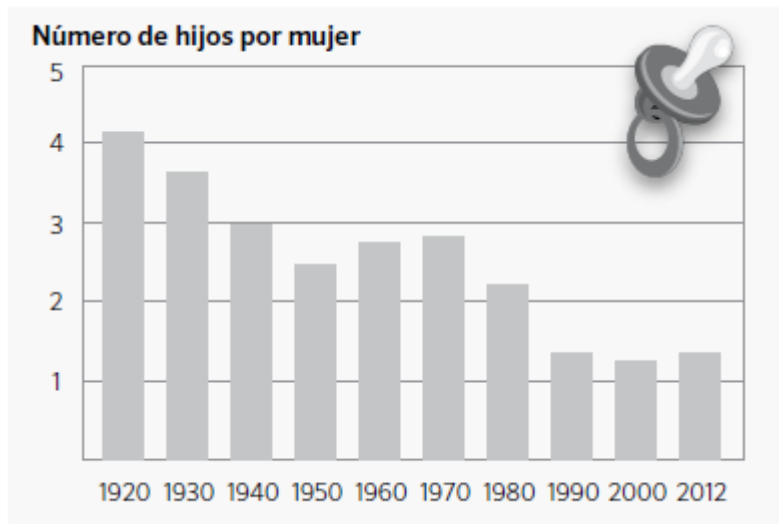
-¿Cuál de ellas tiene una población más envejecida? _____

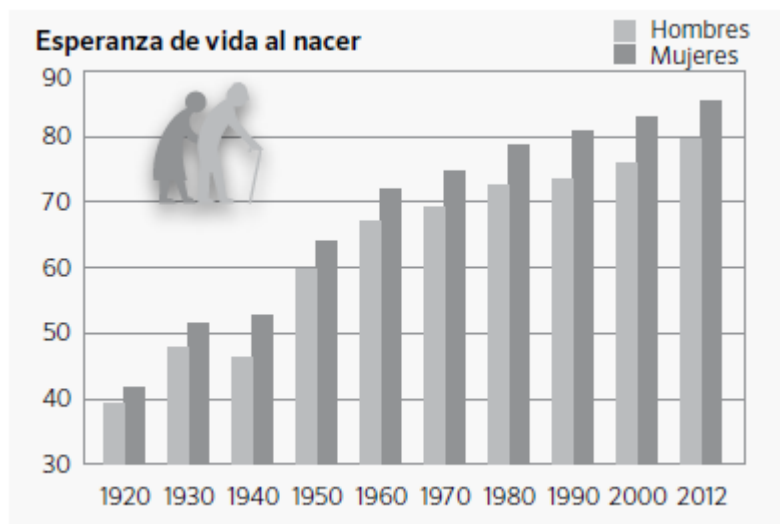
-¿En cuál de las dos crees que hay un mayor porcentaje de inmigrantes?

4. Completa la tabla con las lenguas que se hablan en las siguientes comunidades autónomas.

Comunidad autónoma	Lenguas que se hablan
Galicia
Castilla y León
País Vasco/Euskadi
Cataluña/Catalunya
Comunidad Valenciana/Comunitat Valenciana
Illes Balears
Aragón

5. Observa los gráficos y responde a las preguntas que se plantean a continuación.





-¿Qué indica el eje vertical de la primera gráfica? _____

-¿Qué registra el eje vertical de la segunda gráfica? _____

-¿Qué aparece reflejado en los ejes horizontales de las dos gráficas?

-¿Cuál era el número de hijos por mujer en 1920? ¿Y en 2012?

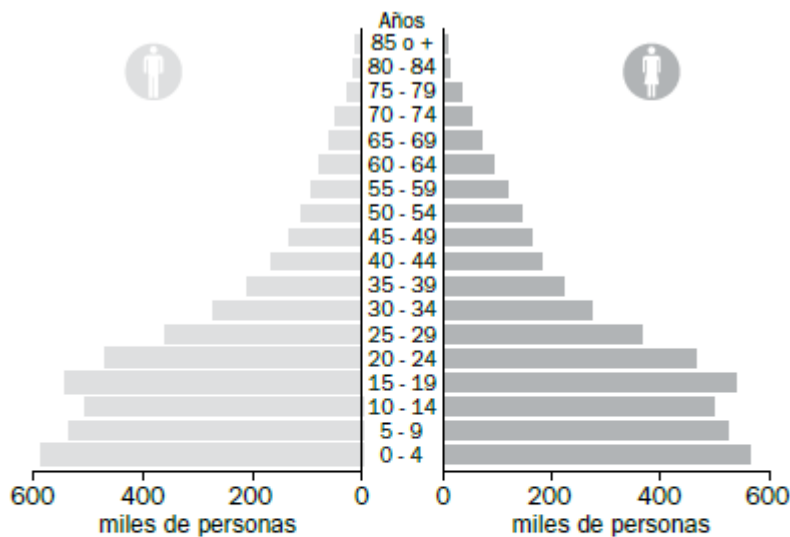
-¿Cuál era la esperanza de vida al nacer de las mujeres españolas en el año 2012? _____

6. Para realizar la siguiente actividad es recomendable leer la siguiente información, junto con la información que aparece en la página 75 del libro y el visionado del archivo adjunto al email.

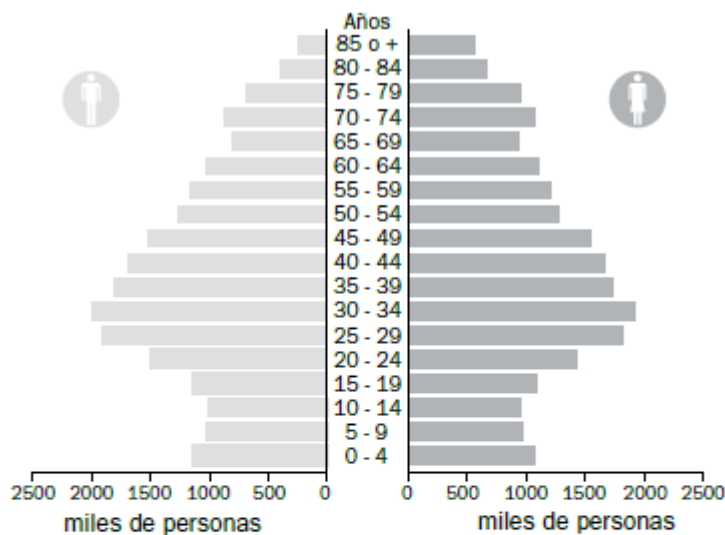
Las pirámides de población

La pirámide de población es un tipo de gráfico utilizado para estudiar la población de un lugar, habitualmente un país. En ella se registra la distribución de la población por sexo y edad. En la mitad izquierda de la pirámide se representa a los varones y en la derecha a las mujeres. El eje horizontal señala el número de individuos o personas, y el vertical las edades, agrupadas de cinco en cinco años.

Dependiendo de la estructura demográfica de un país, la pirámide de población tiene una forma u otra.

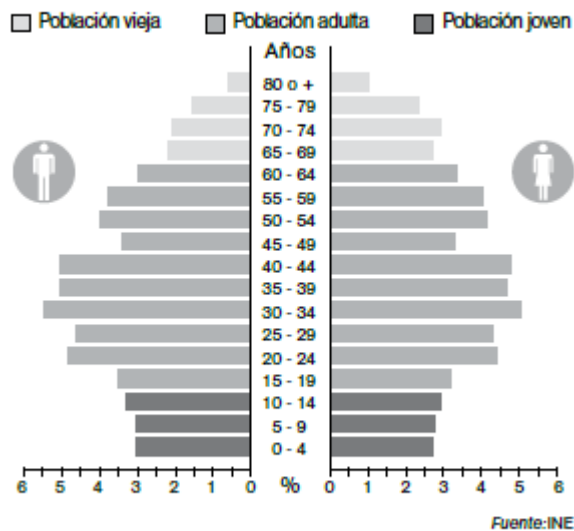


Las pirámides de los países menos desarrollados concentran mucha población en la base. La mayoría de sus habitantes son jóvenes, ya que nacen muchos niños. La parte superior es estrecha, puesto que la mortalidad es muy elevada.



Las pirámides de población en los países desarrollados tiene la base más estrecha, porque nacen menos niños. Además, la parte superior de la pirámide se ensancha, porque aumenta la esperanza de vida al nacer.

Observa la siguiente pirámide de población y contesta a las siguientes preguntas.



- ¿Te parece una pirámide de población de un país desarrollado o poco desarrollado?
- En ese lugar, ¿nacen más niños o niñas?
- ¿Entre qué edades se concentra el mayor número de habitantes?
- Suma los porcentajes de las barras superiores a 65 años e indica cuál es el tanto por ciento de población anciana.

¡Muchas gracias!