

DEBERES 1º DE PRIMARIA**ÁREA DE LENGUA:**

1.Lectura: alternar un día voz alta, al día siguiente lectura silenciosa:

-Lectura en voz alta de un libro de su elección. Mínimo 30 minutos.

-Lectura silenciosa de un libro de su elección. Mínimo 30 minutos.

2.Realizar ficha de comprensión lectora:


Ficha **3** **Uno más en casa**

A Valeria le han regalado un periquito. ¡Está contentísima!

En la tienda de animales, una señora muy simpática le ha dado unos consejos muy sencillos para que lo cuide ella misma.

- Todos los días tienes que ponerle agua limpia y alpiste. Ponle también una hoja de lechuga o un pedacito de manzana y una galleta. ¡Le encantan!

Además, límpiale la jaula una vez a la semana. ¡Ya verás lo feliz que es contigo!



1. ¿Qué le han regalado a Valeria? Marca.






Un canario. Un periquito.

2. Inventa y escribe otro título para la lectura.

10

Narración

3. ¿Qué puede comer el periquito? Rodea y escribe el nombre de esos alimentos.








4. ¿Qué cuidados necesita el periquito? Contesta.

Todos los días ▶

Una vez a la semana ▶

5. Inventa un nombre para el periquito.



Evaluación

- Corrige tus ejercicios.
- Pinta de verde un recuadro por cada ejercicio que hayas hecho bien.

1

2

3

4

5

11

3. ¿Recuerdas qué era el sustantivo y el artículo?

Aquí tienes algunos ejemplos.

La doctora, el elefante, la flor...

Ahora vamos a saber qué es:

El adjetivo .Ver video sobre el adjetivo y rellenar la ficha.









<https://youtu.be/NUhsBnGzkH8>



Nombre: _____ Fecha: _____

Lee los adjetivos y relaciónalos con los dibujos. Escribe el número del dibujo en el lugar que le corresponde. Sigue el ejemplo.

Caliente	Frio	Triste	Feliz	Cansado	Enfermo	Sediento	Hambriento
				1			

							
1	2	3	4	5	6	7	9

Escribe cinco oraciones que relacionen los adjetivos con los dibujos.
Ejemplo:

La tarta está caliente.

AREA DE MATEMÁTICAS

-Repasar de mayor a menor:

Nombre: Fecha: Curso:

De mayor a menor



Ordena las siguientes cantidades de mayor a menor:

30 23 29 5 35 27

○ > ○ > ○ > ○ > ○ > ○

www.edufichas.com

17 60 12 19 35 42

○ > ○ > ○ > ○ > ○ > ○

11 43 6 52 16 23

○ > ○ > ○ > ○ > ○ > ○

www.edufichas.com

-Repaso de problemas:

Nombre: _____ Curso: _____ Fecha: _____

Problemas de matemáticas



5. María tiene 5 manzanas, Pedro tiene 8 y Susana tiene 9. Si juntan todas las manzanas en una cesta, ¿Cuántas manzanas tienen?

datos

operaciones



solución:

www.edufichas.com

6. Juan tiene 28 magdalenas. Tiene 12 amigos y le da una magdalena a cada uno, y otra para él. ¿Cuántas manzanas quedan?

datos

operaciones



solución:

www.edufichas.com

Nombre: _____ Curso: _____ Fecha: _____

Problemas de matemáticas



3. Si tengo 4 perros, 5 gatos y 12 gallinas,
¿Cuántos animales tengo en total?

datos

operaciones



solución:

www.edufichas.com

4. En el gimnasio de mi colegio hay 14
balones de fútbol y 15 de baloncesto. ¿cuántos
balones hay en total?

datos

operaciones




solución:

www.edufichas.com

Nombre: _____

Series de sumas





+2 +3 +2 +5

5 ○ ○ ○ ○

+3 +2 +4 +5 +3

4 ○ ○ ○ ○ ○



+3 +7 +2

5 ○ ○ ○

+3 +4 +4 +2 +2

6 ○ ○ ○ ○ ○

-Repasar la suma con llevadas:

Nombre: _____

Sumas llevando. (Dos cifras. Ficha 1)



$$\begin{array}{r} 57 \\ + 43 \\ \hline \end{array}$$

$$\begin{array}{r} 55 \\ + 18 \\ \hline \end{array}$$

$$\begin{array}{r} 44 \\ + 96 \\ \hline \end{array}$$

$$\begin{array}{r} 26 \\ + 18 \\ \hline \end{array}$$

$$\begin{array}{r} 23 \\ + 48 \\ \hline \end{array}$$

$$\begin{array}{r} 37 \\ + 19 \\ \hline \end{array}$$

$$\begin{array}{r} 65 \\ + 56 \\ \hline \end{array}$$

$$\begin{array}{r} 64 \\ + 78 \\ \hline \end{array}$$

$$\begin{array}{r} 91 \\ + 19 \\ \hline \end{array}$$

$$\begin{array}{r} 23 \\ + 77 \\ \hline \end{array}$$

$$\begin{array}{r} 82 \\ + 49 \\ \hline \end{array}$$

$$\begin{array}{r} 38 \\ + 49 \\ \hline \end{array}$$

$$\begin{array}{r} 17 \\ + 18 \\ \hline \end{array}$$

$$\begin{array}{r} 35 \\ + 15 \\ \hline \end{array}$$

$$\begin{array}{r} 39 \\ + 14 \\ \hline \end{array}$$

$$\begin{array}{r} 34 \\ + 66 \\ \hline \end{array}$$

AREA DE INGLÉS

-Las prendas de vestir: **CLOTHES**

-canciones:

<https://youtu.be/jNg3KuUFkxU>

<https://youtu.be/KFQxBCvgx70>

-video:

<https://youtu.be/KBcJZOA3Cuk>

JUEGOS:

Clothes:

<http://www.esolhelp.com/clothing-matching-game.html>

Repaso:

<http://www.esolhelp.com/body-parts-matching-game.html>

<http://www.esolhelp.com/colors-matching-game.html>