

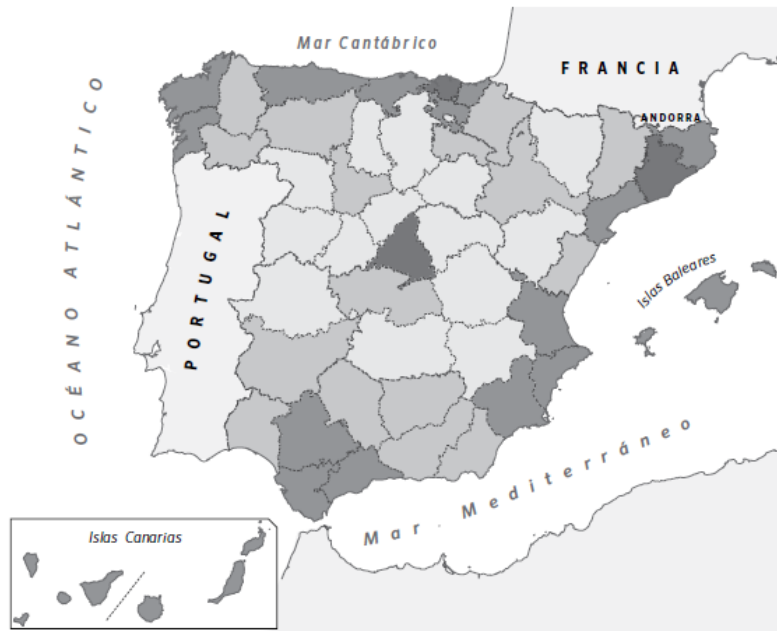
## SOLUCIONES ACTIVIDADES CIENCIAS SOCIALES

Define qué es la densidad de población y escribe la fórmula con la que se calcula.

La densidad de población es el resultado de dividir los habitantes de un territorio entre su superficie.

Densidad de población = número de habitantes/km<sup>2</sup> de superficie

El siguiente mapa nos muestra la densidad de población de las provincias españolas. Obsérvalo y contesta a las preguntas:



a. Cita tres provincias con una alta densidad de población y otras tres con baja densidad.

ALTA DENSIDAD

Madrid

Barcelona

Murcia

BAJA DENSIDAD

Teruel


Soria

Huesca

b. ¿Dónde es más alta la densidad, en el interior o en la costa? ¿Por qué?

La densidad de población es mayor en la costa, ya que allí se concentran muchas de las grandes ciudades españolas, así como las zonas turísticas más importantes del país.

Observa las dos fotografías y responde a las preguntas que se realizan a continuación.

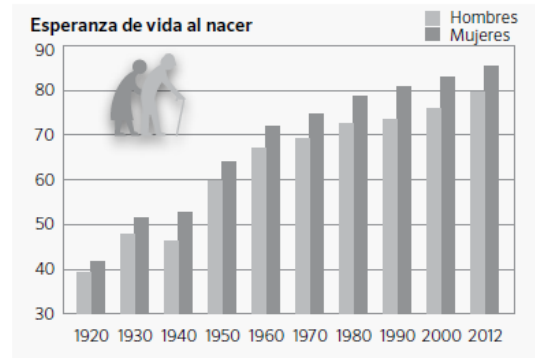
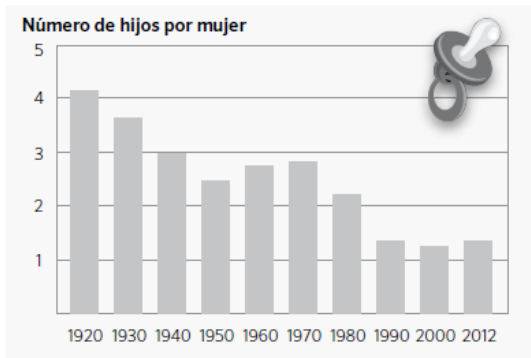


- ¿Cuál de las dos localidades tiene una densidad de población mayor? *La segunda, porque es una ciudad.*
- ¿Cuál de ellas tiene una población más envejecida? *La primera, porque es una zona rural.*
- ¿En cuál de las dos crees que hay mayor porcentaje de inmigrantes? *En la segunda.*

Completa las tablas con las lenguas que se hablan en las siguientes comunidades autónomas.

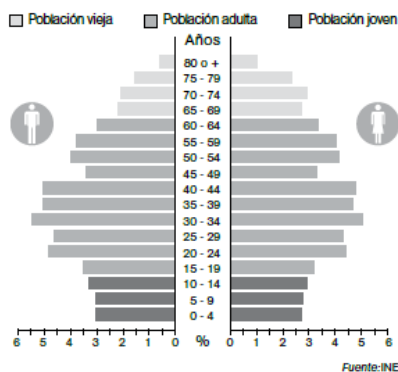
Comunidad autónoma	Lenguas que se hablan
Galicia	<i>Castellano y gallego</i>
Castilla y León	<i>Castellano y leonés</i>
País Vasco/Euskadi	<i>Castellano y euskera</i>
Cataluña/Catalunya	<i>Castellano y catalán</i>
Comunidad Valenciana/Comunitat Valenciana	<i>Castellano y valenciano</i>
Illes Balears	<i>Castellano y mallorquín</i>
Aragón	<i>Castellano, aragonés y aranés</i>

Observa los gráficos y contesta a las preguntas que se plantean a continuación.



- ¿Qué indica el eje vertical de la primera gráfica? El número de hijos por mujer.
- ¿Qué registra el eje vertical de la segunda gráfica? Los años que muestran la esperanza de vida al nacer.
- ¿Qué aparece reflejado en los ejes horizontales de las dos? Las décadas.
- ¿Cuál era el número de hijos por mujer en 1920? ¿Y en 2012? En 1920 había 4.1 hijos por mujer y en 2012, 1.3.
- ¿Cuál era la esperanza de vida al nacer de las mujeres españolas en el año 2012? 85 años.

Observa la siguiente pirámide de población y responde a las preguntas.



- ¿Te parece una pirámide de población de un país desarrollado o poco desarrollado? Una pirámide de un país desarrollado.
- En ese lugar, ¿nacen más niños o niñas? Nacen más niños.
- ¿Entre qué edades se concentra el mayor número de habitantes? Entre los 30 y los 44 años.
- Suma los porcentajes de las barras superiores a 65 años e indica cuál es el tanto por ciento de población anciana. 6,8% en hombres y 9,9% en mujeres.